

Activité 31

Comment l'eau devient-elle consommable ?

Annexe II

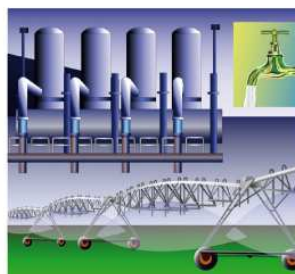
Évaluation

Nom : Date :


Reconstituez le trajet de l'eau en traçant des flèches.




Rivière et captage




Consommateurs



Usine de traitement des eaux usées



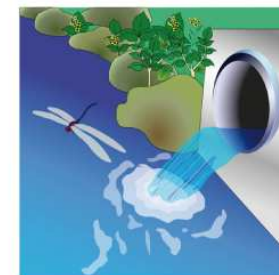
Usine de traitement de l'eau potable



Collecte des eaux usées



Château d'eau



Retour à la rivière